

PEIMA QAT - 2022
GRADE - 3
MATHEMATICS

School Name : _____

Student Name: _____ Section: _____

Roll Number : _____ Date: _____

General Instructions for Students:

طلبہ کے لیے عمومی ہدایات:

- 1) Read carefully and attempt all questions. (1) غور سے پڑھیں اور تمام سوالات حل کریں۔
- 2) A question can consist of one or more parts. (2) ایک سوال ایک یا ایک سے زیادہ حصوں پر مشتمل ہو سکتا ہے۔
- 3) Use blank space given below each question to write the answer. No additional page will be given for writing. (3) ہر سوال کے نیچے دی گئی خالی جگہ کو جواب دینے کے لئے استعمال کریں۔ لکھنے کے لیے کوئی اضافی صفحہ نہیں دیا جائے گا۔
- 4) Use black/blue ink for writing. Use of lead pencil is never allowed. (4) لکھنے کے لیے کالی/ نیلی روشنائی کا استعمال کریں۔ کچی پنسل کے استعمال کی ہر گز اجازت نہیں ہے۔

Total Marks: 50	Part-B (Constructed Response Questions)	Total Time: 1 hour 45 minutes
------------------------	--	--------------------------------------

Q.No.26. (a) Write Roman number from 15 to 20.	سوال نمبر 26 (a) 15 سے 20 تک رومن اعداد لکھیں۔	(5)
Q.No.26. (b) Amina and Ahmad saved Rs. 4 000 and Rs. 3 000 respectively. Find out their total saving.	سوال نمبر 26 (b) آمنہ اور احمد نے بالترتیب 4 000 روپے اور 3 000 روپے کی بچت کی۔ ان کی کل بچت معلوم کریں۔	(5)

Q.No.27. (a) If Zahid spends Rs 50 in one day, then how many rupees he will spend in 7 days?

(5)

سوال نمبر 27 (a) اگر زاہد ایک دن میں 50 روپے خرچ کرتا ہے تو وہ 7 دنوں میں کتنے روپے خرچ کرے گا؟

Q.No.27. (b) If there are 45 cars in one row, then how many cars are there in 9 such rows?

(5)

سوال نمبر 27 (b) اگر ایک قطار میں 45 کاریں ہوں تو ایسی 9 قطاروں میں کتنی کاریں ہوں گی۔

Q.No.28. (a) Write the fraction of the coloured parts then solve it.

(5)

سوال نمبر 28 (a) کسور کے رنگدار حصوں کو لکھ کر حل کریں۔



Q.No.28. (b) Hira bought 5m 50cm cloth while Saima bought 4m 25cm cloth. Find the total length of cloth they bought.

(5)

سوال نمبر 28 (b) حیرا نے 5 میٹر 50 سینٹی میٹر کپڑا خریدا جبکہ سائما نے 4 میٹر 25 سینٹی میٹر کپڑا خریدا۔ معلوم کریں دونوں نے کل کتنا کپڑا خریدا۔

Q.No.29. (a) Waleed studies Science for 10 hours and Mathematics for 8 hours in a week. How much time does he spent for both subjects.

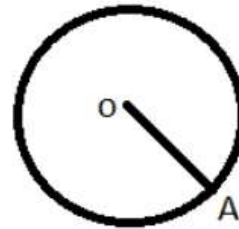
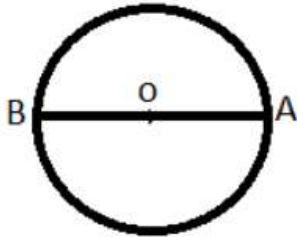
(5)

سوال نمبر 29 (a) ولید ایک ہفتے میں 10 گھنٹے سائنس اور 8 گھنٹے ریاضی پڑھتا ہے۔ وہ دونوں مضامین کو کل کتنا وقت دیتا ہے؟

Q.No.29. (b) Identify radius and diameter of a circle in the following diagrams.

(5)

سوال نمبر 29 (b) نیچے دی گئی اشکال میں سے رداس اور قطر کی شناخت کریں۔



Q.No. 30. (a) Draw the line segment of the given length.

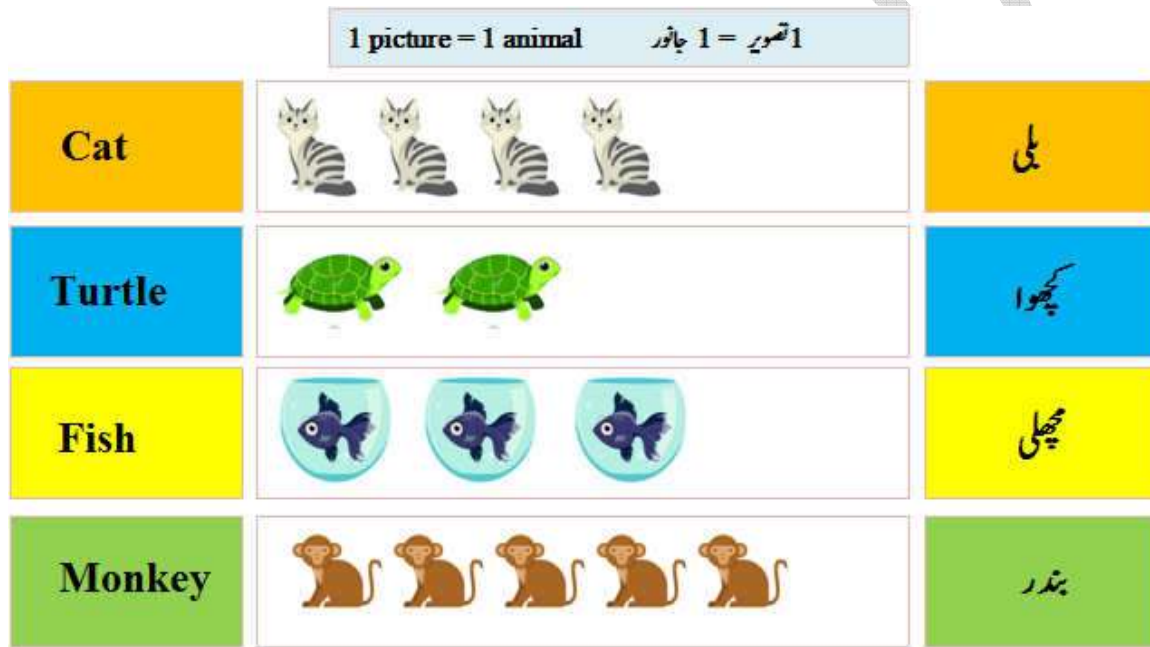
سوال نمبر 30 (a) دی گئی لمبائی کے مطابق قطع خط کھینچیں۔

(i) 4.7 cm سیٹی میٹر

(5)

Q.No.30. (b) Read the picture graph and answer the given questions:

سوال نمبر 30 (b) تصویری گراف کو پڑھیں اور دیئے گئے سوالات کے جواب دیں۔



1. Which animal is greatest in number

1. سب سے زیادہ تعداد کس جانور کی ہے؟

2. What is the total number of monkeys and turtles?

2- بندروں اور کچھوں کی کل تعداد کتنی ہے؟