

PEIMA QAT 2022 GRADE 3
GENERAL KNOWLEDGE (Paper – A)

Model Paper

School Name: _____

Student Name: _____ Section: _____

Roll Number: _____ Date: _____

General Instructions for Students:

طلبہ کے لیے عمومی ہدایات:

- 1) Use mask and keep 3 feet distance from each other. ۱۔ ماسک پہنیں اور آپس میں کم از کم 3 فٹ کا فاصلہ رکھیں۔
 - 2) Read carefully and attempt all questions. ۲۔ غور سے پڑھیں اور تمام سوالات حل کریں۔
 - 3) Encircle the correct option of each of the Multiple-Choice Questions (MCQs) as shown in the example given below. ۳۔ ہر کثیر الانتخابی سوال کے صحیح جواب پر دائرہ لگائیں جیسا کہ نیچے دی گئی مثال میں دکھایا گیا ہے۔
- Example: Hepatitis is caused by: مثال: ہپاٹائٹس کی وجہ کون ہے؟
- | | |
|--|---|
| (a) bacteria بیکٹیریا | (b) fungi فنجائی |
| (c) viruses وائرسز | (d) algae الگی |
- 4) Use black/blue ink for writing. Use of lead pencil is not allowed. ۴۔ لکھنے کے لیے کالی/ نیلی روشنائی کا استعمال کریں۔ کچی پنسل کے استعمال کی اجازت نہیں ہے۔
 - 5) If more than one options are encircled in a question, no mark will be given. ۵۔ اگر کسی سوال میں ایک سے زیادہ جوابات کے گرد دائرہ لگایا گیا تو کوئی نمبر نہیں دیا جائے گا۔

Total Marks: 50

Multiple Choice Questions

Total Time: 1 Hour

Instructions: Twenty-five (25) Multiple Choice Questions (MCQs) are given, each question carries two marks. ہدایات: بیچیس (25) کثیر الانتخابی سوالات دیے گئے ہیں۔ ہر سوال کے دو نمبر ہیں۔

Q No.1: Identify the animal that live in the water habitat.

آبی مسکن میں رہنے والے جانور کی شناخت کریں۔

- | | |
|---|---|
| (a) Fox لومڑی | (b) Fish مچھلی |
| (c) Tiger چیتا | (d) Elephant ہاتھی |

Q No.2: On which of the following planet life exists?


درج ذیل میں سے کس سیارے پر زندگی موجود ہے؟

- | | |
|--|---|
| (a) Earth زمین | (b) Mars مرخ |
| (c) Mercury عطارد | (d) Neptune نپتچون |

Q No. 3: Identify the plant shown in the image below.


دیئے گئے پودے کی شناخت کریں۔

- | |
|---|
| (a) Lotus کنول |
| (b) Cactus تھوہر |
| (c) Pinus چیز |
| (d) Rose گلاب |



Q No. 4: From the following whose off springs are NOT like parents when they born?

مندرجہ ذیل میں سے کس کے بچے پیدائش کے وقت ماں باپ جیسے نہیں ہوتے؟



a)



b)



c)



d)

Q No.5: Identify time with the help of the shadow given in the image.

تصویر میں دیئے گئے سایہ کی مدد سے وقت کی شناخت کریں۔

(a) Morning صبح

(b) Noon دوپہر

(c) Evening شام

(d) Night رات



Q No. 6: In which direction does the Earth rotate around the sun on its axis?

زمین اپنے محور پر سورج کے گرد کس سمت میں گھومتی ہے؟

(a) West to East مغرب سے مشرق


(b) East to North مشرق سے شمال

(c) West to South مغرب سے جنوب

(d) West to North مغرب سے شمال

Q No. 7: Which of the following has a specific volume but does not have a specific shape?

مندرجہ ذیل میں سے کس کا مخصوص حجم تو ہوتا ہے لیکن مخصوص شکل نہیں ہوتی؟



a)



b)



c)



d)

Q No. 8: Solar plate generates electricity from _____ energy.

سولر پلیٹ _____ سے بجلی پیدا کرتی ہے۔

(a) Hydro energy پین توانائی

(b) Solar energy شمسی توانائی

(c) Wind energy ہوا کی توانائی

(d) Thermal energy حرارتی توانائی

Q No. 9: Identify the natural resources from the following.

مندرجہ ذیل میں سے قدرتی وسائل کی شناخت کریں۔

a) Machines مشینیں

b) Factories فیکٹریاں

c) Mountains پہاڑ

d) Vehicles گاڑیاں

Q No. 10: Which type of resource is shown in image?

تصویر میں وسیلہ کی کس قسم کو دکھایا گیا ہے؟

(a) Natural قدرتی

(b) Capital سرمایہ

(c) Human انسانی

(d) Technology ٹیکنالوجی



Q No. 11: In what ways human is changing the natural environment?

انسان کن طریقوں سے قدرتی ماحول کو تبدیل کر رہا ہے؟

- a) By building roads سڑکیں بنانے سے b) By cutting forests جنگلات کے کٹاؤ سے
c) By reforestation جنگلات دوبارہ اگا کر d) By conserving diversity حیاتیات کی حفاظت سے

Q No. 12: Which from the given pictures is a way to preserve natural resources?

دی گئی تصاویر میں سے قدرتی وسائل کو محفوظ رکھنے کا طریقہ کون سا ہے؟



a)



b)



c)



d)

Q No. 13: Identify extinct animal from the given images below?

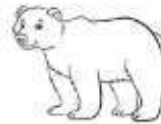
نیچے دی گئی تصاویر میں سے ناپید جانور کی پہچان کریں؟



a)



b)



c)



d)

Q No. 14: Which animal eats other animals from the following?


مندرجہ ذیل میں سے کون سا جانور دوسرے جانوروں کو کھاتا ہے؟



a)



b)



c)



d)


Q No. 15: Identify the mean of transportation that is driven by the animals.

مقل و حمل کے اس ذریعہ کی نشاندہی کریں جو جانور چلاتے ہیں۔

- (a) Van وین (b) Train ریل گاڑی
(c) Bull cart بیل گاڑی (d) Aeroplane جہاز

Q No. 16: Which of the following tool is used to cut wood?

مندرجہ ذیل میں سے لکڑی کاٹنے کے لیے کون سا آلہ استعمال ہوتا ہے؟



a)



b)



c)



d)

Q No. 17: When Quaid-e-Azam Muhammad Ali Jinnah was born?

قائد اعظم محمد علی جناح کب پیدا ہوئے؟

- (a) 22 December, 1876 (b) 23 December, 1876
(c) 24 December, 1876 (d) 25 December, 1876

Q No. 18: Who wrote the poem "پرنڈے کی فریاد"?

نظم "پرنڈے کی فریاد" کس نے لکھی؟

- (a) Munir Niazi منیر نیازی (b) Mirza Galib مرزا غالب
(c) Faiz Ahmed Faiz فیض احمد فیض (d) Allama Iqbal علامہ اقبال

Q No. 19: In ancient time tools were made from:

زمانہ قدیم میں اوزار _____ سے بنائے جاتے تھے۔

- (a) iron and wood لوہے اور لکڑی (b) steel and rubber سٹیل اور ربڑ
(c) stone and bones پتھر اور ہڈیوں (d) plastic and wood پلاسٹک اور لکڑی

Q No. 20: Whoever invent something new is called:

جو کوئی نئی چیز ایجاد کرتا ہے اسے _____ کہا جاتا ہے۔

- (a) engineer انجینئر (b) inventor موجد
(c) scientist سائنس دان (d) student طالب علم

Q No. 21: What is the cause of shortage of clean drinking water?

پینے کے صاف پانی کی کمی کی وجہ کیا ہے؟

- (a) Storage of rainwater بارش کے پانی کا ذخیرہ کرنا (b) Decrease in urban population شہری آبادی میں کمی
(c) Excess of ground water زیر زمین پانی میں زیادتی (d) Misuse of water پانی کا بے جا استعمال

Q No. 22: Which of the following is a good citizen?

درج ذیل سے اچھا شہری کون سا ہے؟

- a) Irresponsible غیر ذمہ دار (b) Liar جھوٹا
c) Dishonest بے ایمان (d) Responsible ذمہ دار

Q No. 23: When two or more people have different opinions on a single issue is called:

جب کسی ایک مسئلے پر دو یا دو سے زیادہ لوگوں کی مختلف آرا ہوں تو اسے _____ کہا جاتا ہے۔

- (a) relationship تعلق (b) agreement معاہدہ
(c) disagreement اختلاف (d) behavior رویہ

Q No. 24: Identify the preventive measure from the following for earthquake.

درج ذیل میں سے زلزلے سے بچاؤ کے لیے حفاظتی تدبیر کی نشان دہی کریں۔

- (a) Jump کودنا (b) Fight جھگڑنا
(c) Run بھاگنا (d) Lay down نیچے لیٹنا

Q No. 25: Electric appliances should never be touched when hands are:

بجلی کے آلات کو کبھی نہیں چھونا چاہیے جب ہاتھ _____ ہوں۔

- a) dry خشک (b) wet گیلے
c) clean صاف (d) dirty گندے